

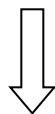
Zakupy w supermarkecie

Mama zrobiła zakupy w supermarkecie w poniedziałek, w środę i w piątek. Za każdym razem dawała kasjerce banknot o wartości 50 zł. Spójrz na rachunki z tych trzech dni i oblicz, ile reszty za każdym razem kasjerka wydała mamie.

PONIEDZIAŁEK




RACHUNEK

RAZEM:
37 zł

RESZTA:

ŚRODA




RACHUNEK


RAZEM:
25 zł

RESZTA:

PIĄTEK



RACHUNEK

RAZEM:
48 zł

RESZTA:

